

نموذج الاجابة



وزارة التربية  
الإدارة العامة لمنطقة الأحمدية التعليمية  
التوجيه الفني للاجتماعيات

امتحان نهاية الفترة الدراسية الأولى  
للمجال الدراسي: اجتماعيات (بلادي الكويت)  
للمستوى: الخامس الابتدائي  
عدد الأوراق: (٥ صفحات)  
الزمن: ساعة وربع  
للعام الدراسي ٢٠١٩/٢٠٢٠م

الامتحان يتكون من خمس أسئلة جميعها اجبارية .

٨ نقاط × درجة واحدة = ٨ درجات

السؤال الأول (موضوعي) يتكون من ( أ - ب )


( أ ) ظلل الحرف ( أ ) إذا كانت العبارة صحيحة وظلل الحرف ( ب ) إذا كانت العبارة غير صحيحة:

الحرف	الحرف	العبارة
ب	أ	١. المسطح المائي الذي تطل عليه دولة الكويت يسمى خليج عمان. ص ٢٣
ب	أ	٢. المضيق منفذ أو ممر ضيق من الماء يفصل بين مسطحين مائيين. ص ٢٤
ب	أ	٣. تعتبر الشمس من الموارد الطبيعية الحية. ص ٣٨
ب	أ	٤. الحضرة و القرقور من أدوات صيد الأسماك في دولة الكويت . ص ٥٣
ب	أ	٥. المحيط مسطح كبير جداً من الماء المالح. ص ١٩

(ب) اكتب دلالات الصور التالية في الفراغات التي تليها: ص ١٦٤ ص ٧٦



شعار وزارة الكهرباء والماء



دوارة الرياح



شعار التدوير

نموذج اجابة امتحان نهاية الفترة الدراسية الأولى - اجتماعيات (بلادي الكويت) - الصف الخامس - العام الدراسي ٢٠١٩/٢٠٢٠ م

٨ نقاط × درجة واحدة = ٨ درجات

السؤال الثاني (موضوعي) يتكون من ( أ - ب )

( أ ) اختر الإجابة الصحيحة من بين البدائل التي تلي كل عبارة و ضع تحتها خط:

١. يبلغ عدد دول الوطن العربي : ص ٢٦

أ- ٢٠ دولة      ب- ٢٢ دولة      ج- ٢٤ دولة      د- ٢٦ دولة

٢. تم تصدير أول شحنة نפט في دولة الكويت من ميناء : ص ٥٩

أ- الأحمدي      ب- عبدالله      ج- الشويخ      د- الزور

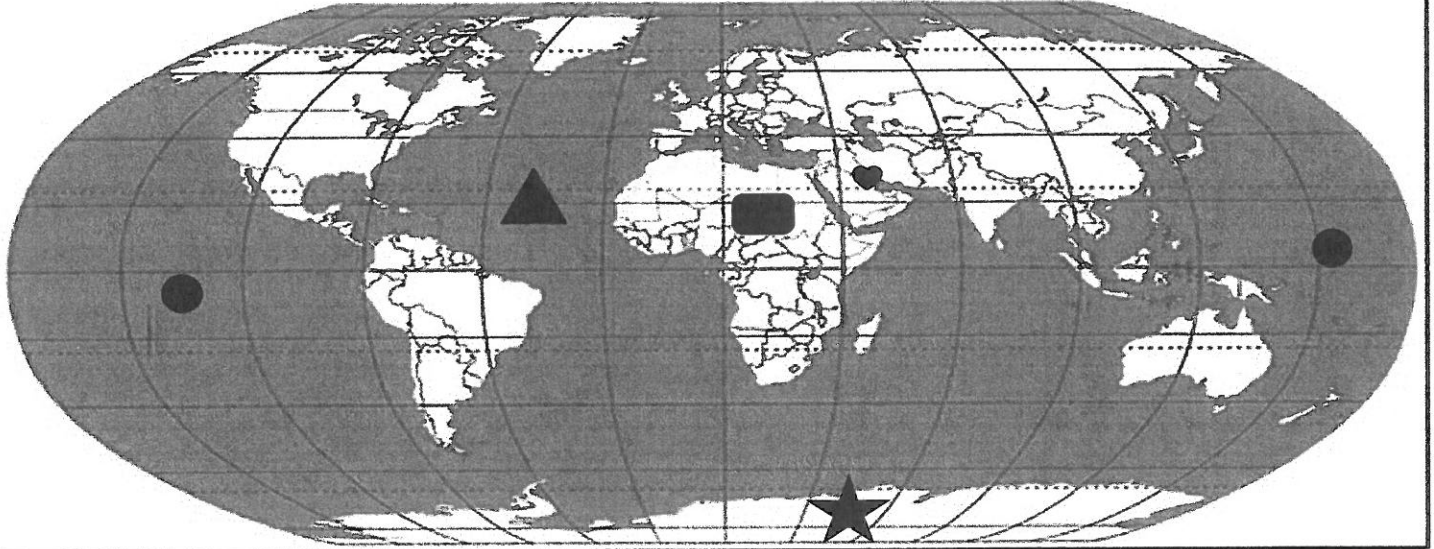
٣. اسم المحطة التي تستخدم طاقة الشمس والرياح لتوليد الكهرباء في دولة الكويت : ص ٨٠

أ- الشقيا      ب- العبدلي      ج- الصابرية      د- كبد

٤. أهم مناطق تربية الثروة الحيوانية في بلادي الكويت: ص ٥١

أ- بحره      ب- أم نقا      ج- الصابرية      د- كبد

(ب) أجب عما يلي مستعيناً بالرموز الموضحة على خريطة العالم:



- المحيط الهادي يمثله على الخريطة الرمز ● ص ٢١/٢٢/٢٣/٢٤/٢٥

- دولة الكويت يمثّلها على الخريطة الرمز ♥ ص ٢٨/٢٤

- القارة القطبية الجنوبية يمثّلها على الخريطة الرمز ★ ص ٢١

- قارة أفريقيا يمثّلها على الخريطة الرمز ■ ص ٢١

٨ نقاط × درجة واحدة = ٨ درجات

السؤال الثالث (موضوعي) يتكون من ( أ - ب )

( أ ) ظلل العنصر الذي (( لا ينتمي )) لكل مجموعة مما يلي:

١. المضائق المائية التي يطل عليها الوطن العربي: ص ٢٨

مضيق باب المنذب	مضيق جبل طارق	مضيق العرب	مضيق هرمز
-----------------	---------------	------------	-----------

٢. الموارد الطبيعية الحية : ص ٣٨

النفط	النباتات	الحيوانات	الأسماك
-------	----------	-----------	---------

٣. دول الخليج العربية : ص ٢٣

الكويت	السعودية	قطر	مصر
--------	----------	-----	-----

٤. مصادر الطاقة المتجددة : ص ٧٣

الرياح	النفط	الشمس	المياه
--------	-------	-------	--------

( ب ) أكمل العبارات التالية بما يناسب كل منها مما درست:

١. تمثل نسبة اليابسة من سطح الكرة الأرضية حوالي ----- ٣٠ ----- % ص ١٧


٢. تقع دولة الكويت ضمن الإقليم المناخي ----- الصحراوي ----- ص ٤١

٣. أكبر الحقول النفطية في دولة الكويت اسمه ----- برقان ----- ص ٥٨

٤. كل ما أوجده الله في الطبيعة دون أن يكون للإنسان دخل في وجودها يسمى --- الموارد الطبيعية --- ص ٣٨.

السؤال الرابع (مقالي) يتكون من (أ - ب - ج )

٨ نقاط × درجة واحدة = ٨ درجات



( أ ) اقرأ الجدول ثم استنتج حقيقتين وسجلها في الشكل:ص٣٢

عدد الدول الإسلامية في قارات العالم	
٢	أوروبا
٢٧	آسيا
٢٦	أفريقيا
١	أمريكا الجنوبية

- قارة آسيا أكثر القارات في عدد الدول الإسلامية .
- قارة أمريكا الجنوبية أقل القارات في عدد الدول الإسلامية.
- قارة آسيا وأفريقيا أكثر القارات في عدد الدول الإسلامية
- قارة أمريكا الجنوبية وقارة أوروبا أقل القارات في عدد الدول الإسلامية . ( الاجابة مفتوحة )

( ب ) علل لما يلي ( أذكر السبب ):

( يكتفى بنقطتين )

١. أهمية موقع الوطن العربي ص ٢٦  
- يطل الوطن العربي على العديد من المسطحات المائية  
- يشرف على العديد من المضائق المائية ١ يتوسط العالم

٢. اعتماد الكويتيين على السمك كغذاء رئيسي. ص٥٣  
- فقر البيئة الصحراوية  
- موقع دولة الكويت على ساحل الخليج العربي

( ج ) عدد اثنين من المنشآت التي استخدمت فيها الطاقة الشمسية في دولة الكويت: ص٨٢

( يكتفى بنقطتين )

- مسجد فاطمة العوضي ١ مركز الشيخ عبد الله السالم الثقافي
- جمعية العديلية التعاونية ١ جمعية الزهراء التعاونية
- مطار الكويت الدولي الجديد مبنى الركاب (٢)

٨ نقاط × درجة واحدة = ٨ درجات

السؤال الخامس (مقالي) يتكون من (أ - ب - ج)  
(أ) اقرأ الفقرة التالية ثم أجب عما يليها من أسئلة:

(الغاز الطبيعي أحد مصادر الطاقة غير المتجددة ويتشابه مع النفط في التواجد بين طبقات الصخور العميقة  
بباطن الأرض ، ويتميز الغاز الطبيعي بعدة خصائص أهمها :

آمن جدا وصديق للبيئة ، يعد من الغازات غير السامة ، وأكثر أنواع الطاقة استخداما ، كما ليس له رائحة ولالون ،  
وللغاز الطبيعي العديد من الاستخدامات فهو يستخدم للطبخ والتدفئة وتعبئة الثلجات وتحلية مياه البحر).

ص ٧٨ (يكتفى بنقطتين)

١. ما الخصائص التي يتميز بها الغاز الطبيعي؟

- آمن جدا وصديق للبيئة \ يعد من الغازات غير السامة  
- أكثر أنواع الطاقة استخداما \ كما ليس له رائحة ولالون

(يكتفى بنقطتين)

٢. عدد استخدامات الغاز الطبيعي.

- يستخدم للطبخ \ التدفئة  
- تعبئة الثلجات وتحلية مياه البحر

(ب) عرف المفاهيم التالية :

١. محمية طبيعية: أماكن تخصصها الدولة لحماية الحيوانات والنباتات المهددة بالإنقراض. ص ٤٥

٢. قارة: مساحة كبيرة من اليابسة يحيط بها الماء. ص ٢١

(ج) تخيل أنك عضواً في جمعية الرفق بالحيوان .. اكتب أسباب الانخفاض المستمر في أعداد حيوانات الحياة  
القطرية: ص ٤٨

